

INTERNATIONAL INDIAN SCHOOL, DAMMAM  
UPPER PRIMARY SECTION- CLASS- IV  
SUMMATIVE ASSESSMENT -2 (MARCH -2015)

SUBJECT: TELUGU

Name: \_\_\_\_\_ Sec: \_\_\_\_ Roll No: \_\_\_\_\_

Time: 2 Hrs.

Marks: Orals: \_\_\_\_ /10

Written: \_\_\_\_ /50

Total: \_\_\_\_ /60

INSTRUCTIONS:

1. Read the paper thoroughly before answering the questions.
2. Re-check the paper before submitting.

I. ఈ క్రింది పదాలకు అర్థములు వ్రాయుము. (Write any 4 meanings) (1X4=4)

- ఎ) మాసము = \_\_\_\_\_ బి) ప్రదేశము = \_\_\_\_\_  
సి) ఆది = \_\_\_\_\_ డి) పొగబండి = \_\_\_\_\_  
ఇ) ఉపయుక్తమగు = \_\_\_\_\_ ఎఫ్) గ్రీష్మము = \_\_\_\_\_

II. ఈ క్రింది పదాలకు వ్యతిరేక పదములు వ్రాయుము. (Write any 4 opposites) (1X4=4)

- ఎ) భూమి X \_\_\_\_\_ బి) రాత్రి X \_\_\_\_\_  
సి) వేగముగా X \_\_\_\_\_ డి) తెల్లగ X \_\_\_\_\_  
ఇ) అతడు X \_\_\_\_\_ ఎఫ్) మంచి X \_\_\_\_\_

III. ఈ క్రింది పదాలకు ఇతర వచనాలు వ్రాయుము. (Write any 4 plurals) (1X4=4)

- ఎ) నది \_\_\_\_\_ బి) పని \_\_\_\_\_  
సి) వాహనము \_\_\_\_\_ డి) రిక్షా \_\_\_\_\_  
ఇ) పడవ \_\_\_\_\_ ఎఫ్) మైలు \_\_\_\_\_

IV. ఈ క్రింది పదాలను సొంత వాక్యాలలో వ్రాయండి. (Frame sentences any3) (1X3=3)

- ఎ) వాహనము \_\_\_\_\_  
\_\_\_\_\_
- బి) ఆకాశమార్గము \_\_\_\_\_  
\_\_\_\_\_

సి)పడవ \_\_\_\_\_

డి)విమానము \_\_\_\_\_

ఇ)ప్రదేశము \_\_\_\_\_

V. ఈ క్రింద ఇవ్వబడిన సరియైన పదాలతో వాక్యాలలోని ఖాళీలను పూరించండి. ( $\frac{1}{2} \times 7 = 3\frac{1}{2}$ )

(1. ఓడ 2. సైకిలు 3. పొగబండి 4. ఎడ్ల 5. శ్రావణ, భాద్రపద మాసాల్లో  
6. రెండు 7 గ్రీష్మ ఋతువు) .( Helping words given)

ఎ) కాలితో తొక్కుతూ నడిపే వాహనము \_\_\_\_\_

బి) రోడ్డు లేనికాలములో \_\_\_\_\_ బండ్లు వాహనములుగా ఉండేవి.

సి) సముద్రముపై \_\_\_\_\_ లలో ప్రయాణం చేస్తారు. ణిస్తారు.

డి) ఇనుప పట్టాలపై ప్రయాణించేది \_\_\_\_\_

ఇ) \_\_\_\_\_ చెరువులు ఎండి పోతాయి.

ఎఫ్) \_\_\_\_\_ నెలలకు ఒక ఋతువు.

జి) \_\_\_\_\_ వర్ష ఋతువు.

VI ఈ క్రింది వానిని జతపరచుము. (Match the following)

( $\frac{1}{2} \times 6 = 3$ )

ఎ) రైతు నీటిలో ప్రయాణిస్తాయి. ( )

బి) కంసాలి రైలుపట్టాలపై నడచును. ( )

సి) పడవలు ఆకాశమార్గంలో ప్రయాణిస్తాయి. ( )

డి) విమానాలు కుండలు చేయును. ( )

ఇ) కుమ్మరి బంగారము కరిగించి వివిధ రకాలైన నగలు చేయును. ( )

ఎఫ్) రైలు మనకు కావలసిన పంటలను పండించును. ( )

VII. ఈ క్రింది వాక్యములను చదివి తప్పొలేక ఒప్పొ ( $\sqrt{X}$ ) లో వ్రాయుము. ( $\frac{1}{2} \times 6 = 3$ )

(Read the sentences and write right or wrong)

- ఎ) నిర్మలము అనగా స్వచ్ఛము. ( )  
బి) గ్రీష్మ కాలమంటే చలికాలము. ( )  
సి) మార్గశిరము తెలుగు నెలలో ఐదవది. ( )  
డి) వసంత ఋతువులో చెట్లు చిగురిస్తాయి. ( )  
ఇ) ఋతువుల్లో జరిగే మార్పులే ఋతుధర్మాలు. ( )  
ఎఫ్) తెలుగునెలలో మొదటిది చైత్రము. ( )

VIII. ఈ క్రింది ఖాళీలను పూరింపుము. (Fill in the blanks)

( $\frac{1}{2} \times 8 = 4$ )

- ఎ) మగ్గము మీద నూలుతో \_\_\_\_\_ నేయుదురు.  
బి) రైతు లేనిదే మన \_\_\_\_\_ సాగదు.  
సి) మట్టితో సారెపైన \_\_\_\_\_ చేయును.  
డి) \_\_\_\_\_ తలుపులు, బల్లలు చేయుదురు.  
ఇ) \_\_\_\_\_ చెరువులు ఎండి పోతాయి.  
ఎఫ్) " " ఈ గుర్తు \_\_\_\_\_ మాటలను తెలుపును.  
జి) చుక్కకు బదులుగా ఉపయోగించునది \_\_\_\_\_.  
హెచ్) \_\_\_\_\_ గుర్తు ఉన్నపుడు అక్కడ కొంతసేపు ఆగి చదువవలెను.

IX. ఈ క్రింది వానిని జతపరచుము. (Match the following)

( $\frac{1}{2} \times 6 = 3$ )

- ఎ) కామా ;  
బి) పూర్ణబిందువు ?  
సి) సెమికొలన్ ( )  
డి) ప్రశ్నార్థకము \_\_\_\_\_  
ఇ) బ్రాకెట్ ,  
ఎఫ్) ఖాళీ .

X. ఈ క్రింది చిత్రాలను వాటి పేర్లతో జతపరచుము. (Match the pictures with their names)


( $\frac{1}{2} \times 5 = 2\frac{1}{2}$ )



ఆటోరిక్షా




ఓడ



బస్సు



విమానము



రైలు

XI. ఈ క్రింది ప్రశ్నలకు ఒక్క వాక్యములో సమాధానము వ్రాయుము? ( Answer in one sentence)

( $1 \times 6 = 6$ )

ఎ) అక్షరము అనగానేమి?

---

---

బి) చెట్లు ఏ ఋతువులో చిగుర్చును?

---

---

సి) నగలు తయారు చేయువాడెవరు?

---

---

డి) ఏ నెలలు వర్ష ఋతువు?

---

---

ఇ) అన్నిటి కంటే మిక్కిలి వేగంగా పోయేసాధనము?

---

---

ఎఫ్) నేడు బట్టలు ఎక్కడ నేయబడుచున్నవి?

---

---

XII. ఈ క్రింది ప్రశ్నలకు 2,3 వాక్యాలలో సమాధానము వ్రాయుము. (Answer any 2 questions)

(2X2=4)

ఎ) జల, వాయు మార్గములో ప్రయాణించే వాహనములు ఏవి?

---

---

---

---

బి)సంవత్సరానికి ఎన్ని ఋతువులు?అవి ఏవి?

---

---

---

---

సి) రైతు అందరిలో గొప్పవాడుగా ఎందుకు చెప్పబడతాడు?

---

---

---

---

XIII. ఈ క్రింది చిత్రాలను సరియైన పదాలతో జతపరచుము.(Match the following) ( $\frac{1}{2} \times 4 = 2$ )



కంసాలి



వడంగి



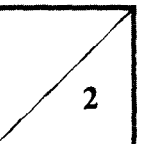
కుమ్మరి



రైతు

6of7




IV



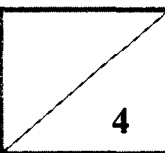
XIV. ఈ క్రింది చిత్రాలను చూచి అవి ఏయే ఋతువులకు సంబంధించినవో వ్రాయుము.

( Colour the pictures and write the season name)

(1X4=4)



GOOD LUCK



7of7

IV