

INTERNATIONAL INDIAN SCHOOL, DAMMAM  
UPPER PRIMARY SECTION- CLASS- IV  
SUMMATIVE ASSESSMENT -2 (MARCH -2016)

SUBJECT: TELUGU

Time: 2 Hrs.

Marks: Orals: \_\_\_\_\_ /10

Name: \_\_\_\_\_ Sec: \_\_\_\_\_ Roll No: \_\_\_\_\_

Written: \_\_\_\_\_ / 50

Total: \_\_\_\_\_ /60

INSTRUCTIONS:

1. Read the paper thoroughly before answering the questions.

2. Re-check the paper before submitting.

I. ఈ క్రింది పదాలకు అర్థములు వ్రాయుము. ( Write any 4 meanings)

1X4=4 m

ఎ) ధృడము = \_\_\_\_\_ బి) పొగబండి = \_\_\_\_\_

సి) దాదాపు = \_\_\_\_\_ డి) భుజిస్తారు = \_\_\_\_\_

ఇ) వాహనాలు = \_\_\_\_\_ ఎఫ్) మాసము = \_\_\_\_\_

II. ఈ క్రింది పదాలకు ఇతర వచనాలు వ్రాయుము. (Write any 4 plurals)

1X4=4 m

ఎ) పావురాయి \_\_\_\_\_ బి) పండు \_\_\_\_\_

సి) ఎడ్లబండి \_\_\_\_\_ డి) రోడ్డు \_\_\_\_\_

ఇ) కాకి \_\_\_\_\_ ఎఫ్) ఋతువు \_\_\_\_\_

III. ఈ క్రింది వానిని జతపరచుము. (Match the following)

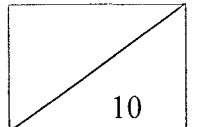
½X4=2 m

1. చిలుక నల్లగా ఉండును. ( )

2. కోడి గ్రుడ్లను, మాంసం ఆకుపచ్చగా ఉండును. ( )

3. కాకి పిట్ట అని కూడ అంటాము. ( )

4. పిచ్చుకను కొందరు భుజిస్తారు. ( )



IV. ఈ క్రింది పదాలను సొంత వాక్యములలో ఉపయోగించుము. (Frame any 3 sentences) 1X3=3m

1) విమానము \_\_\_\_\_

2) పడవ \_\_\_\_\_

3) వాహనము \_\_\_\_\_

4) ప్రదేశము \_\_\_\_\_

5) ఆకాశమార్గము \_\_\_\_\_

V. ఈ క్రింది పదాలకు వ్యతిరేక పదములు వ్రాయుము. (Write any 4 opposites) 1X4=4m

ఎ) జ్ఞాపకముంచుకొను X \_\_\_\_\_ బి) వేగముగా X \_\_\_\_\_

సి) ఆకాశము X \_\_\_\_\_ డి) నల్లగా X \_\_\_\_\_

ఇ) దూరము X \_\_\_\_\_ ఎఫ్) మగ X \_\_\_\_\_

VI. ఈ క్రింద ఇవ్వబడిన సరియైన పదాలతో వాక్యాలలోని ఖాళీలను పూరించండి. (Helping words given)

$\frac{1}{2} \times 6 = 3m$

(1.ఓడ 2.సైకిలు 3.బస్సు 4.విమానము 5.పొగబండి 6.ఎడ్లు)

1. ఆకాశ మార్గంలో పయనించేవి \_\_\_\_\_

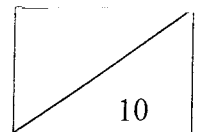
2. రోడ్డు లేని కాలములో \_\_\_\_\_ బండ్లు వాహనములుగా ఉండేవి.

3. సముద్రము పై \_\_\_\_\_ లలో ప్రయాణంచేస్తారు.

4. ఇనుప పట్టాలపై ప్రయాణించేది \_\_\_\_\_

5. పట్టణాలలో వాడవాడకు \_\_\_\_\_ తిరుగుతాయి.

6. కాలితో తొక్కుతూ నడిపే వాహనము \_\_\_\_\_.



VII. ఈ క్రింది వానిని జతపరచుము. (Match the following)

½X6 = 3m

1. కామా ;
2. ఆశ్చర్యార్థకము ?
3. ఖాళీ ( )
4. బ్రాకెట్ \_\_\_\_\_
5. సెమికొలన్ ,
6. ప్రశ్నార్థకము !

VIII. ఈ క్రింది ఖాళీలను పూరింపుము. (Fill in the blankas)

½X6 = 3m

1. " ? " ఈగుర్తు \_\_\_\_\_ ను తెలియ జేయును.
2. పూర్వము పావురముల ద్వారా \_\_\_\_\_ - పంపివారు.
3. చుక్కకు బదులుగా ఉపయోగించునది \_\_\_\_\_.
4. ఆశ్చర్యార్థకము తెలుపు గుర్తు \_\_\_\_\_.
5. చీలుకకు \_\_\_\_\_ లాంటి ముక్కు ఉంటుంది.
6. మగ పిచ్చుకల \_\_\_\_\_ క్రింది భాగము నల్లగ ఉంటుంది.

IX. ఈ క్రింది వాక్యములను చదివి తప్పొలేకబప్పొ ( ) లో వ్రాయుము. (Write corrector wrong)

½X6 = 3m

1. గ్రీష్మ కాలమంటే చలికాలము ( )
2. నిర్మలము అనగా స్వచ్ఛము. ( )
3. రెండు నెలలకు ఒక ఋతువు. ( )
4. తెలుగు నెలలో మొదటిది చైత్రము. ( )
5. మార్గ శిరము తెలుగు నెలలో ఐదవది. ( )
6. ఋతువుల్లో జరిగే మార్పులే ఋతుధర్మాలు. ( )

X. ఈ క్రింది ఖాళీలను సరియైన జవాబులతో పూరింపుము. (Choose correct answer)

$\frac{1}{2} \times 4 = 2$  m

1. \_\_\_\_\_ ఋతువులో చెట్లు చిగురిస్తాయి.

1. వసంత                      2. శిశిర

2. \_\_\_\_\_ ఋతువులో వర్షాలు కురుస్తాయి. చెరువులు నిండుతాయి.

1. శరదృతువు                2. వర్షఋతువు

3. \_\_\_\_\_ ఋతువులో ఆకాశం నిర్మలంగా ఉంటుంది.

1. గ్రీష్మ                              2. శరదృతువు

4. \_\_\_\_\_ ఋతువులో మంచు కురుస్తుంది.

1. హేమంత                      2. శరదృతువు

XI. ఈ క్రింది ప్రశ్నలకు సమాధానము వ్రాయుము? ( Answer any 5 questions)

1X5=5m

1. కాకి ఏపక్షి పిల్లలను రెక్కలు వచ్చే వరకు పోషిస్తుంది ?

---

2. వాక్యములు సంపూర్ణమైనట్లు ఏ గుర్తు తెలుపును ?

---

3. అన్నిటి కంటే మిక్కిలి వేగంగా పోయే సాధనము ?

---

4. ఏ తెలుగు నెలలో వెసవి సెలవులు ఉండును ?

---

5. అక్షరము అనగానేమి ?

---

6. వాక్యములు చదువు నపుడు ఏమి కనపడును ?

---

XII. ఈ క్రింది వానిలో ఏవైన రెండు ప్రశ్నలకు సమాధానము వ్రాయుము ? ( Any 2 questions) 2X2=4m

1. పూర్వకాలంలో వాడిన వాహనములు ఏవి?

---

---

---

2. ఏవైన నాలుగు పెంపుడు పక్షుల పేర్లను వ్రాయుము ?

---

---

---

3. ఏవైన నాలుగు ఋతువుల పేర్లను వ్రాయుము ?

---


---

---

---

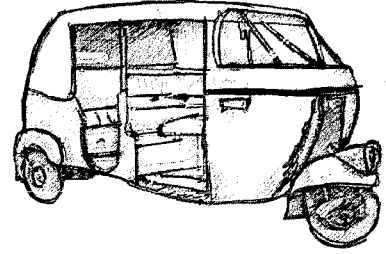
XIII. ఈ క్రింది చిత్రాలను చూచి వాటి పేర్లను తెలుగులో వ్రాయుము. (Name the pictures) 1X4=4m

1.




---

2.




---

3.



---

4.



---

XIV. ఈ క్రింది చిత్రాలను వాటి పేర్లతో జత పరచుము.(Match the following)

$\frac{1}{2} \times 4 = 2m$

1. హేమంత ఋతువు



2. గ్రీష్మ ఋతువు



3. శిశిర ఋతువు




4. వర్ష ఋతువు.



XV. ఈ క్రింది చిత్రాలను చూచి వాటిని అవి పయనించే మార్గాలతో జతపరచుము.(Match the following)

$1 \times 4 = 4m$



నీటిలో ప్రయాణిస్తాయి.



రోడ్లపైనడచును



రైలుపట్టాలపైనడచును.



ఆకాశమార్గంలో ప్రయాణిస్తాయి.

