

International Indian School, Dammam

Class-IV , SUB - Telugu

SA -1 , Work sheet -(2016)

Name: _____

Section: _____

మేము మాడారు

A) ఈ క్రింది ఇచ్చిన పదములను ఉపయోగించి క్రింది ఖాళీలను పూరింపుము.

1) మా ఊరి బావులలోని నీరు _____ లో ఎండిపోవును.

a) ఎండాకాలము b) వానాకాలము

2) మా ఊరి ప్రక్కనుండి ఒక _____ ప్రవహించుచున్నది.

a) ఏఱు b) నది

3) మా ఊరి లో అన్నీ _____ గుడిసెలే.

a) పూరి b) వరి

4) రంగయ్యకు ముఖ్యమైనది _____.

a) ఊరు b) హాలము

5) మా పూరికి కొద్ది దూరములో _____ కలదు.

a) అడవి b) తోట

6) నరసమ్మ _____ పని చేస్తుంది

a) పొలము b) ఇంటి

B) ఈ క్రింది పదములకు అర్థములను వ్రాయుము.

1) హాలము = _____ (పొలము , నాగలి)

2) పూరి = _____ (గడ్డి , పువ్వు)

3) వృత్తి = _____ (పని , నది)

4) ఏఱు = _____ (నది , గట్టు)

c) ఈ క్రింది పదములకు వచనములను వ్రాయుము.

1) గ్రామము - _____ 2) జంతువు - _____

3) పంట - _____ 4) పొలము - _____

D) ఈ క్రింది పదములకు వ్యతిరేకపదములు వ్రాయుము.

1) కొడుకు x _____ (కూతురు , భార్య)

2) చిన్నది x _____ (లావుది , పెద్దది)

3) లాభము x _____ (కష్టము , నష్టము)

4) భార్య x _____ (కొడుకు , భర్త)

E) ఈ క్రింది వాక్యములను జతపరుచుము.

- 1) రంగయ్య () a) రవి
- 2) రంగయ్య బార్య () b) జంతువులను చంపును.
- 3) రంగయ్య కొడుకు () c) గిరిజ
- 4) రంగయ్య కూతురు () d) నరసమ్మ
- 5) రంగయ్య కుటుంబము () e) రైతు
- 6) కృరజంతువులు () f) చిన్నది

F) ఈ క్రింది ప్రశ్నలకు సమాధానములు వ్రాయుము.



1) బడిలో ఎంత మంది ఉపాధ్యాయులు పాఠాలు బోధిస్తున్నారు?

2) ప్రభుత్వము వారేమి చేసిరి?

3) రంగయ్య వృత్తి ఏమిటి ?

4) రంగయ్య కుటుంబములో ఎవరెవరు ఉన్నారు ?

G) ఈ క్రింది యిచ్చిన చిత్రములను గుర్తించి వాటి పేర్లను వ్రాసి రంగులను వేయుము.



6. పక్షులు

A) ఈ క్రింది ఖాళీలను పూరింపుము.

1) పావురములు పూర్వము _____ చేరవేసెడివి.

a) వార్తలు b) గింజలు

2) కాకి _____ ముక్కు గలది.

a) దొండపండు b) దృఢమైన

- 3) చిలుక _____ వంటి ముక్కు గలది.
 a) దృఢమైన b) దొండపండు
 4) మగ పిచ్చుకల _____ క్రింది భాగము నల్లగ ఉండును.
 a) రెక్కల b) మెడ
 5) _____ చీకటి తోనే కూసి అందరిని నిద్రలేపును.
 a) కోడిపుంజు b) కోడి
 6) పిచ్చుకను _____ అని కూడ అందుము.
 a) పక్షి b) పిట్ట

(PAGE 3 of 7)

B) ఈ క్రింది పదములకు అర్థములను వ్రాయుము.

- 1) పోషించు = _____ (పెంచు, చంపుట)
 3) దృఢము = _____ (గట్టిది, మెత్తనిది)
 2) ప్రత్యేకము = _____ (ఒక్కటే, వేరువేరు)
 4) భుజించెదరు = _____ (తినటారు, చంపుతారు)

C) ఈ క్రింది పదములకు వచనములను వ్రాయుము.

- 1) పక్షి - _____ 3) ఇల్లు - _____
 2) పంజరము - _____ 4) గూడు - _____

D) ఈ క్రింది పదములకు వ్యతిరేకపదములు వ్రాయుము.

- 1) నల్లగ x _____ (తెల్లగా, ఎర్రగా)
 2) క్రింద x _____ (మద్య, పైన)
 3) ఆడ x _____ (పిల్ల, మగ)
 4) వెలుతురు x _____ (చికటి, తెల్లగ)

E) ఈ క్రింది వాక్యములను చదివి తప్పు (x) ఒప్పు () గుర్తులను పెట్టుము.

- 1) పావురమును పంజరములో పెట్టి మాటలు నేర్పుదురు. ()
 2) కోడి పెంపుడు పక్షి. ()
 3) చిలుక అందముగా ఉండును. ()
 4) కాకి తెల్లగా ఉండును. ()
 5) పావురములు కూడా పెంపుడు పక్షులే. ()

F) ఈ క్రింది వాక్యములను జతపరుచుము.

- 1) చిలుక () a) గింజలు, మాంసము తినును.
 2) పావురము () b) స్వేచ్ఛగా ఇడ్లలో తిరిగును.
 3) కోడి () c) పండ్లు, కాయలు తినును.
 4) పిచ్చుక () d) వార్తలు చేరవేయును.

5) కాకి () e) గ్రుడ్లను పెట్టును.

G) ఈ క్రింది ప్రశ్నలకు సమాధానములను వ్రాయుము.


1) ఏ పక్షులను పంజరములో పెట్టి మాటలు నేర్పుదురు?

2) పూర్వము ఏ పక్షులు వార్తలు చేరవేసెడివి?


3) పెంపుడుపక్షులేవి?

4) కొన్ని పక్షుల పేర్లు వ్రాయుము?


H) ఈ క్రింది యిచ్చిన చిత్రములను గుర్తించి వాటి పేర్లను వ్రాసి రంగులను వేయుము.




1) _____




2) _____




3) _____



4) _____



5) _____



6) _____

దిక్కులు - మూలలు

A) ఈ క్రింది పదములకు వచనములను వ్రాయుము.

1) దిక్కు - _____ 3) పటము - _____

2) మూల - _____ 4) విద్యార్థి - _____

B) ఈ క్రింది వాక్యములను చదివి తప్పు (x) ఒప్పు () గుర్తులను పెట్టుము.

1) దిక్కులు రెండు. ()

2) పడమర, దక్షిణంల మధ్య ఉన్నమూలం నైఋతి. ()

- 3) సూర్యుడు పడమట ఉదయిస్తాడు. ()
 4) తూర్పు, ఉత్తరంల మధ్య ఉన్నమూలం వాయువ్య.()
 5) సూర్యుడు దక్షిణమున అస్తమిస్తాడు. ()

C) ఈక్రింది వాక్యములను జతపరుచుము.

- 1) నైఋతి () a) పడమర, ఉత్తరముల మధ్య ఉన్నమూలం
 2) వాయువ్య() b) తూర్పు, దక్షిణముల మధ్య ఉన్నమూలం
 3) ఈశాన్యం () c) దక్షిణ, పడమరల మధ్య ఉన్నమూలం
 4) ఆగ్నేయం () d) తూర్పు, దక్షిణముల మధ్య ఉన్నమూలం



D) ఈక్రింది ప్రశ్నలకు సమాధానములను వ్రాయుము.

1) దిక్కులు ఎన్ని? అవి ఏవి ?

2) మూలలు ఎన్ని? అవి ఏవి ?

3) సూర్యుడు ఎక్కడ ఉదయిస్తాడు?

4) సూర్యుడు ఎక్కడ అస్తమిస్తాడు?

E) ఈ క్రింది ఇచ్చిన దిక్కులను , మూలలను ఉపయోగించి క్రింది ఖాళీలను పూరింపుము.

దిక్కులు -- తూర్పు , పడమర , ఉత్తరం , దక్షిణం

మూలలు -- ఆగ్నేయం , నైఋతి , ఈశాన్యం , వాయువ్యం

